



Les braccés laissés par des objets sont des formes géométriques.

Écris le nom des formes sur les
Quelles formes les empreintes des objets peuvent-elles laisser ?
Trace des croix.

| |  DISQUE |  TRIANGLE |  RECTANGLE |  CARRE |
|---|--|--|---|---|
|  | | X | X | |
|  | X | | X | |
|  | X | | X | |
|  | | X | X | |
|  | | | X | X |
|  | | | X | |

Quand c'est possible, repasse à la latte les contours :
- des rectangles en bleu;
- des disques en orange;
- des carrés en rouge;
- des triangles en vert.



Que constates-tu ? Colorie les disques en orange.

Colorie l'intérieur des formes.

J'ai observé

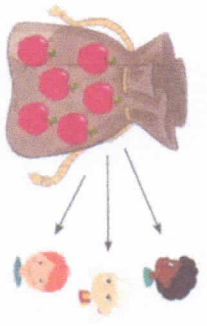


Trace des croix dans le tableau.

| | TRIANGLE | CARRÉ | RECTANGLE |
|----------------------------------|----------|-------|-----------|
| Tous les côtés tracés à la latte | X | X | X |
| 3 côtés | X | | |
| 4 côtés | | X | X |
| Toujours tous les côtés = | | X | |
| Parfois tous les côtés = | X | | X |

Je vais calculer et je comprends le sens des 4 opérations.


Choisis le signe : - , + , + ou x .




6 - 3 = 2



4 + 3 = 7



4 x 3 = 12



7 - 3 = 4

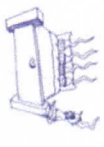
Observe le dessin, colorie le signe qui représente et écris le calcul ainsi que la réponse sur les pointillés.



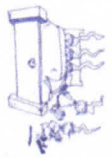
→ + - 4 - 1 = 3



→ + - 5 - 5 = 0



→ + - 4 + 1 = 5



→ + - 5 - 2 = 3



→ + - 6 - 2 = 4



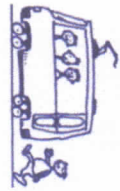
→ + - 6 - 5 = 1



→ + - 5 - 2 = 3

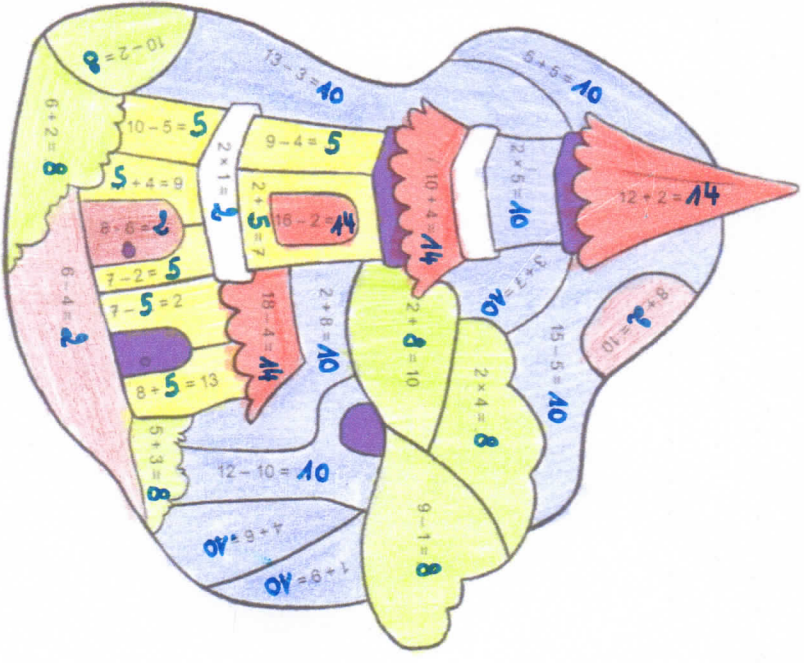



→ + - 5 + 2 = 7



→ + - 3 + 1 = 4

Écris les réponses dans le dessin. Si tu le souhaites, colorie en utilisant le code.



 Colorie de la bonne couleur.

